



**Recapitulare și autoevaluare
America de Nord și America de Sud.
Caracterizare geografică.**

I. Citește enunțurile de mai jos și alege varianta de răspuns corectă care dă sens afirmațiilor următoare:

1. Cea mai înaltă maree de pe glob se produce în golful:
 - a. Alaska
 - b. Mexic
 - c. Arica
 - d. Fundy
2. Cea mai extinsă pădure din America de Sud este în:
 - a. Munții Anzi
 - b. Podișul Patagoniei
 - c. Câmpia la Plata
 - d. Câmpia Amazonului
3. În nordul extrem al Americii populația majoritară este formată din:
 - a. Eschimoși
 - b. Chinezi
 - c. Mulatri
 - d. Metiși
4. Statul al cărui nume are este legat de paralela de 0° se numește:
 - a. Peru
 - b. Bolivia
 - c. Venezuela
 - d. Ecuador
5. Cel mai important producător de cupru rafinat este:
 - a. Chile
 - b. Mexic
 - c. Cuba
 - d. Jamaica
6. Parcul natural Yellowstone se află pe teritoriul:
 - a. Canadei
 - b. SUA
 - c. Braziliei
 - d. Statului Peru
7. Numărul de state federale care formează SUA este de:
 - a. 40
 - b. 50
 - c. 48
 - d. 13
8. Marele Canion a fost format de acțiunea apelor fluviului:
 - a. Mississippi
 - b. Columbia
 - c. Missouri
 - d. Colorado
9. Hidrocentrala gigantică Itaipu a fost pusă în funcțiune pe fluviul:
 - a. Amazon
 - b. Rio Negro
 - c. Sao Francisco
 - d. Parana
10. Brazilia este cel mai mare producător mondial de:
 - a. Citrice
 - b. Orez
 - c. Cafea
 - d. Mașini agricole

10x0,1=1p

II. Agenția *Geographic-Tourism* vă invită la o excursie imaginară în America, pe un traseu marcat pe harta alăturată prin linie punctată. Având în vedere acest traseu, precizează:

a. numele orașelor vizitate, în ordinea indicată pe hartă

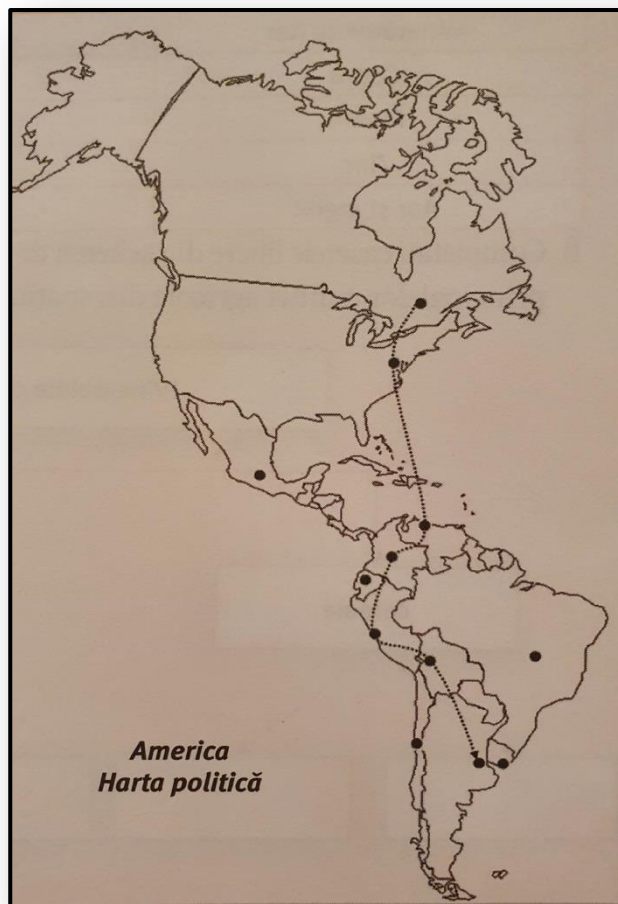
-
-
-
-
-
-
-

b. numele a trei unități de relief traversate

-
-
-

c. numele a trei elemente hidrografice (fluvii, lacuri) pe care le intersectează acest traseu

-
-
-



Sursa: <https://www.arteducational.ro/info/carte/geografia- continentelor-extraeuropene-caiet-pentru-clasa-a-vii-a>

13x0,2=2,6p

III. Explică următoarea situație problemă:

Lungimile fluviilor Amazon și Mississippi sunt diferite – 6437 km (7050000 km²) și 3734 km (3 milioane km² bazinul hidrografic)-, dar nu justifică diferența foarte mare a debitelor acestora. Amazonul scurge circa 219000 m³/sec., pe când Mississippi doar 16790 m³/sec.

Identifică 3 cauze principale care determină această diferență de debite (maxim 6 rânduri).

3 x 0.4p = 1,2p

IV. Citește cu atenție afirmațiile de mai jos și stabilește dacă sunt adevărate sau false. Bifează cu un X căsuța corespunzătoare răspunsului corect.

1. Peninsula Alaska este situată în nord-vestul Americii de Nord.

A F

2. Deșertul american Atacama este considerat cel mai arid deșert din lume.

A F

3. Megalopolisul Brazilian cuprinde orașele: Sao Paulo, Rio de Janeiro și Belo Horizonte.

A F

4. Lacul Sclavilor face parte din complexul lacustru intitulat Marile Lacuri.

A F

5. Vegetația de savană este cunoscută în Podișul Braziliei sub numele de llanos.

A F

5x0,2p=1p

Foarte bine! Felicitări! Ai ajuns la jumătatea testului. Te invit să te relaxezi!! 😊

V. Citește ghicitorile de mai jos:

a. În America de Nord situată,
Țară de englezi fondată,
De trei oceane e scăldată.
Are regiuni glaciare
Și două limbi oficiale.

b. În SUA e orașul cel mai populat
De fluviul Hudson traversat.
Falnic se înalță Statuia Libertății
În numele democrației și dreptății.

c. Sus în Anzi e cocoțat
Lac de vapoare navigat.

d. Cicloni în Atlantic se formează
Coastele Americii afectează.

(sursă ghicitori: *Ghicitorigeografice*, Ilinca Lucian Irinel, Alexandra Tătaru, Ed. Larisa, 2020)

➤ **Scrive soluția celor 4 ghicitori:**

.....
.....

➤ **Notează 4 elemente geografice ale Americii, extrase din textul ghicitorilor:**

.....
.....

4x0,10p+4x0,15p=1p

VI. Scrie pe caiet asocierile corecte dintre statele Americii precizate în Coloana A și capitalele acestora, menționate în coloana B, după modelul C-I.

Indicație: unul dintre elementele din coloana A nu are corespondent în coloana B.

A	B
A. Peru	1. Washington
B. Columbia	2. Caracas
C. SUA	3. Lima
D. Venezuela	4. Bogota
E. Canada	5. Ottawa
F. Brazilia	

5x0,2p=1p

VII. PUZZLE!!!

Completează enunțurile de mai jos. Atenție, fiecare literă de la începutul cuvintelor pe care le completezi, reprezintă parte din cuvântul final pe care trebuie să îl descoperi:

- a.** Munții cei mai înalți de pe teritoriul Americii sunt M-ții
- b.** Fluviul care dă numele câmpiei din S-E Americii de Nord este fluviul
- c.** Mamifer sălbatic din pădurile din zona subarctică ale Americii de Nord, înrudit cu cerbul, este
- d.** Orașul în care se organizează cel mai celebru carnaval din lume este orașul
- e.** Populație băștinașă din nordul Americii de Nord, foarte des asociată cu eschimoșii, este populația de
- f.** Statul care are capitala la Santiago este
- g.** Cel mai lung sistem montan este sistemul cordiliero-.....



Cuvânt final: (a)...(b)...(c)...(d)...(e)...(f)...(g)...

7x0,15p+0,15p=1,20p

Felicitări! Ai terminat testul! Drept recompensă poți accesa linkul de mai jos!

https://www.fyrex.com/play/america_DdBW3ZoB7?fbclid=IwAR0TgQ5E4PflCP-r33tC2RRvsXit2SwIJBNEAwIH6_QWOIfEQ064SeAq8_g

APROFUNDEAZĂ!**Completează cubul:**

DESCRIE	COMPARĂ	ANALIZEAZĂ
<p>Zona biogeografică specific pentru America de Sud: pădurile ecuatoriale și tropicale. În descriere să se regăsească următoarele elemente: vegetație, faună și climă.</p>	<p>Partea nordică a Americii cu partea sudică. În comparație să se țină cont de: forme și unități de relief, elemente de hidrografie, așezări, populație și economie.</p>	<p>Țărutul Pacificului și descrie zonele din această regiune. (populație, așezări, tipuri de țăruturi etc.)</p>
<p>ASOCIAZĂ</p> <p>Elementele geografice enumerate cu zona în care se localizează:</p> <ol style="list-style-type: none"> 1. M-ții Anzi 2. C. Mississippi 3. M-ții Sierra 4. Scutul Canadian 5. Brazilia 6. C. Amazon 7. Pod. Mexicului 8. Peru 9. Canada 10. Pod. Patagoniei 11. Pen. California 12. Colorado 13. Pod. Braziliei <p>a. America de Nord b. America Centrală c. America de Sud</p>	<p>APLICĂ</p> <p>În funcție de informațiile geografice pe care le știi despre America, povestește o zi din viața unei familii de eschimoși care trăiește în zona insulei Groenlanda.</p>  	<p>ARGUMENTEAZĂ</p> <p>Citește afirmația de mai jos și expune părerea ta, pro sau contra, enumerând o serie de motive care să îți sprijine părerea: “ America este un continent bogat.”</p>

Completați spațiile libere din afirmațiile de mai jos cu informația corectă, apoi încercați să rezolvați careul de cuvinte încrucișate de mai jos:

1. În nord, Strâmtoarea Bering, desparte continentul american de continentul
2. Cea mai lungă peșteră din lume se numește.....
3. Cel mai mare sistem de ape glaciare de pe glob, care conservă cea mai mare rezervă de apă dulce, se numește.....
4. Cel mai înalt lac tectonic (peste 3800m) de pe glob se numește.....
5. Țară din America ce exploatează diamante.....
6. Cel mai mare megalopolis nord-american este.....
7. Arhipelagul situat cel mai aproape de Asia este.....
8. Capitala statului Columbia este.....
9. Granița dintre SUA și Mexic este parțial formată de fluviul.....
10. În provincia Quebec, cea mai importantă comunitate este cea vorbitoare de limba.....

