



Resursă educațională digitală

Aria curriculară: Om și societate

Disciplina de învățământ: Geografia continentelor extraeuropene

Clasa: a VII-a

Nr. ore/săpt (TC-CD): 1 oră TC

Domeniu de conținut: America de Nord și America de Sud

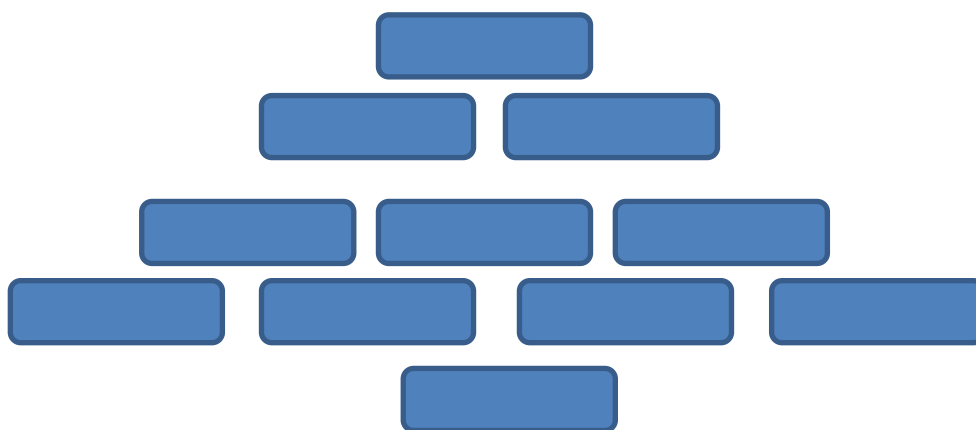
Lecția: Studiu de caz -Brazilia

Acest studiu se va realiza în 4 pași.

PASUL 1

Realizați în scris un cvintet, având ca temă și problemă de bază – Tăierea pădurilor amazoniene, conform următoarei structuri:

- Primul vers să conțină un cuvânt cheie;
- Al doilea vers să conțină două adjective;
- Al treilea vers să conțină trei cuvinte care exprimă acțiuni (trei verbe);
- Al patrulea vers să conțină o propoziție formată din patru cuvinte care să exprime sentimentele voastre față de tema abordată;
- Ultimul vers să conțină un cuvânt care să exprime esența problemei.



PASUL 2

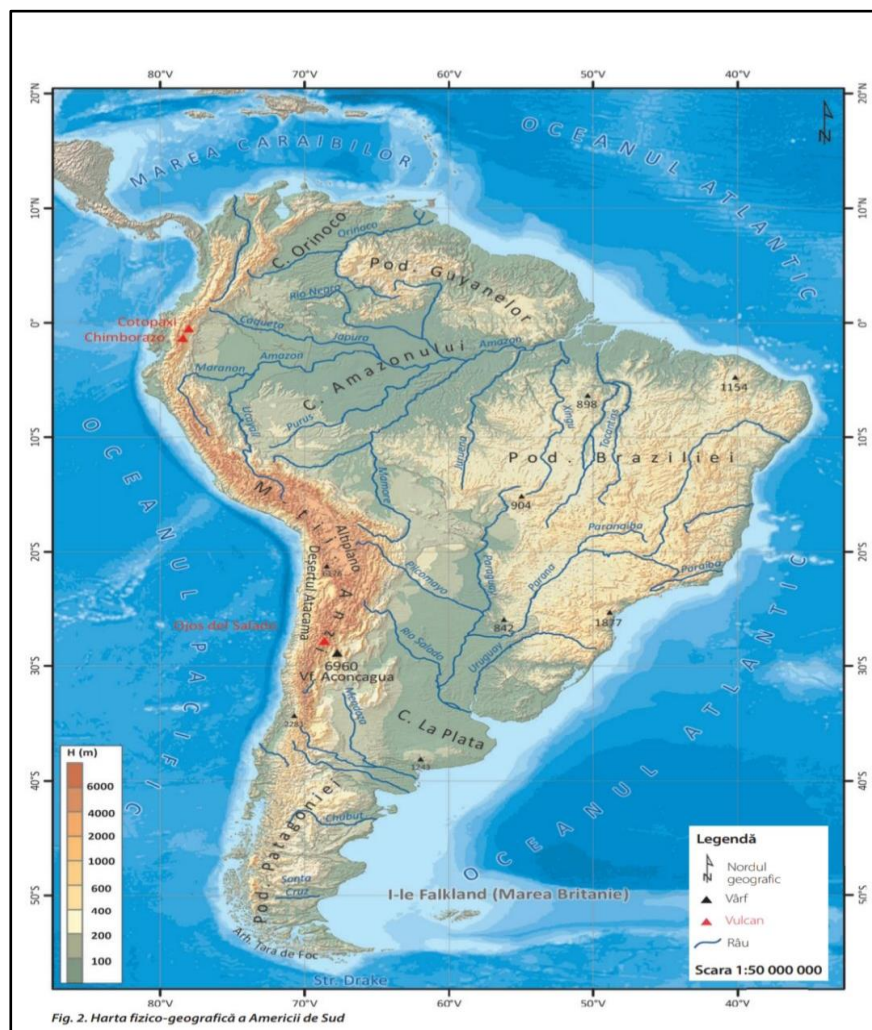
Cea mai mare parte a pădurii amazoniene se desfășoară pe teritoriul Braziliei. Vă invit să urmăriți o lecție în care veți descoperi mai multe informații despre acest stat. Vizionare plăcută!

<https://www.youtube.com/watch?v=VQOOU3-4GII>

SARCINA DE LUCRU NR. 1

Să analizăm harta fizică a Americii de Sud și să identificăm, ținând cont de semnele convenționale prezentate la legendă, treptele/formele și unitățile de relief, elementele de hidrografie, clima și vegetația.

Harta fizico-geografică a Americii de Sud



Sursa: <https://cdpress.ro/gimnaziu/3332-geografie-manual-pentru-clasa-a-vii-a.html>

Suprafața: cel mai întins stat din America de Sud; a cincea țară după: Rusia, Canada, China, S.U.A.

Poziția geografică: partea central-estică a Americii de Sud, litoral la Oceanul Atlantic.

Relieful: predomină podișurile și câmpiile.

Podișuri:

- în N - Podișul Guyanei, peste 3000 m altitudine;
- în partea central-estică: Podișul Braziliei - cu Podișul Matto Grosso în V, peste 800 m;
- în S: culmi paralele cu țărmul numite „serra”.

Câmpii:

- Câmpia Amazonului - peste 50% din suprafața țării;
- Câmpia Parana la S de Matto Grosso.

Clima: predominant caldă; tipuri climatice:

- ecuatorială în Amazonia;

- subecuatorială și tropicală în cea mai mare parte a Podișului Brazilian și a Podișului Guyanelor;
- temperat caldă în extremitatea sudică.

Hidrografia: Amazonul cu afluenții: Madeira, Tapajós, Rio Negro; São Francisco, Paraná.

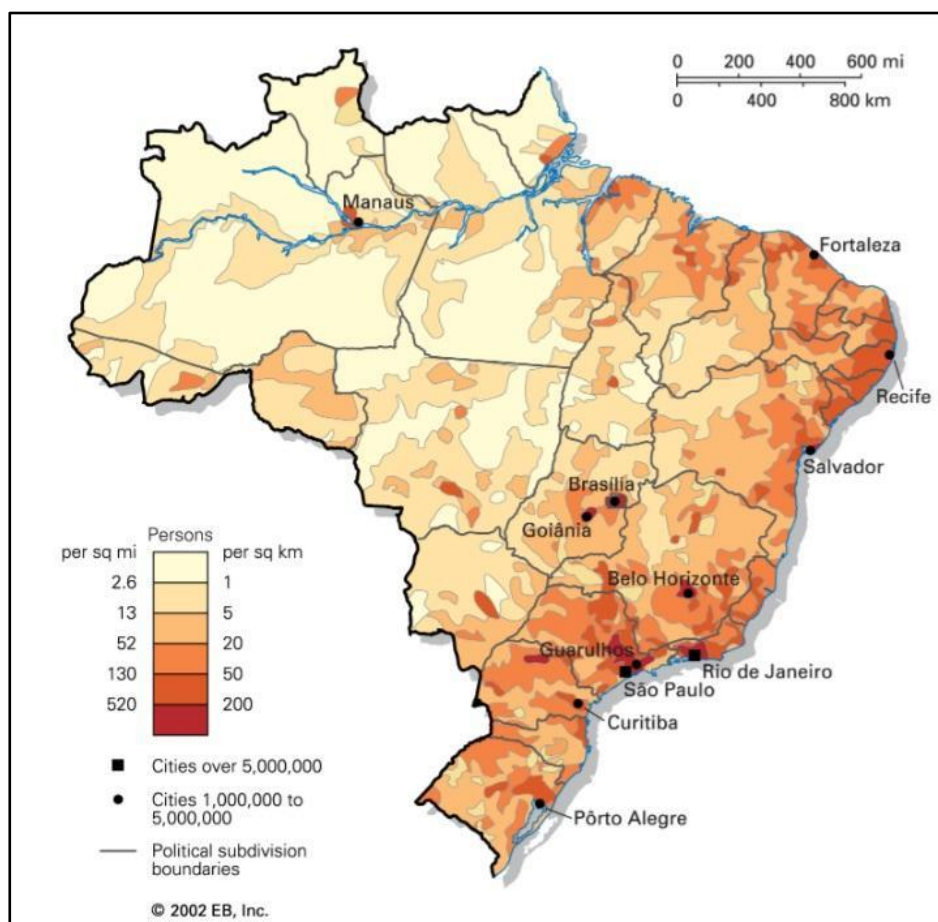
Vegetația: specifică zonei calde;

- pădurea ecuatorială = selvas, cu peste 4000 de specii de arbori = 1/3 din pădurile lumii;
- savana = campos în Sud;
- caatinga = păduri „uscate” = arbori mici cu frunze căzătoare în anotimpul secetos.

SARCINA DE LUCRU NR. 2

Să analizăm harta alăturată și să urmărim repartiția populației și a orașelor, să identificăm deosebirile referitoare la densitatea populației, mărimea orașelor.

Harta densității populației și marile orașe ale Braziliei



Sursa: <http://media.web.britannica.com/eb-media/09/70009-050-A96A8E65.gif>

Populația: 207 milioane locuitori;

- neuniform răspândită în teritoriu - densitate mai mare pe țărmul sud-atlantic = 80% din populație;
- densitate foarte mică, sub 1 loc/km² în Amazonia, Mato Grosso;

- predomină rasa albă - 60% urmași ai portughezilor, spaniolilor, italienilor;
- religia: catolică este predominată 88%;
- predomină așezările din mediul urban 87%;

Orașele: capitala Brasilia

- principale: Sao Paulo (fostă capitală), Rio de Janeiro, Salvador, Manaus;
- megalopolisul brazilian „triunghi economic” format din Rio de Janeiro, Belo Horizonte, Sao Paulo.

SARCINA DE LUCRU NR. 3

Să citim textul următor și să identificăm elementele caracteristice ale economiei Braziliei.

Brazilia beneficiază de enorme resurse naturale, fiind unul dintre producătorii și exportatorii mondiali de minereu de fier, bauxită și alte minereuri neferoase, petrol ș.a. La acestea se adaugă impresionantele resurse forestiere (pădurile ocupă aproape 65% din suprafața țării). În urma reformelor economice de la sfârșitul secolului trecut, Brazilia a intrat într-o perioadă de dezvoltare, fiind astăzi cea mai mare putere economică a Americii Latine.

Industria prelucrătoare a cunoscut o spectaculoasă dezvoltare și diversificare (industriilor tradiționale, textilă și alimentară, li s-au adăugat siderurgia, construcțiile de mașini, electronica etc.). Sectorul agricol este în curs de modernizare, Brazilia fiind o țară exportatoare și de produse agricole (cafea, cacao, citrice, carne de pui, de vită). Sectorul serviciilor beneficiază de numeroase investiții orientate spre modernizarea rețelei rutiere și feroviare și spre valorificarea imensului potențial turistic.

În pofida creșterii economice puternice, milioane de brazilieni continuă totuși să trăiască în condiții de sărăcie.¹

Resursele naturale: foarte abundente: petrol, fier, bauxită; resurse forestiere

Economia: dezvoltată; cea mai mare putere economică a Americii Latine

- agricultura - producții mari de: trestie de zahăr (locul I), cafea (locul I), cauciuc natural, cacao, porumb, manioc, ananas, banane;
- zootehnia: bovine (locul I), ovine, porcine, caprine;
- industria: siderurgia, metalurgia neferoasă, construcțiile de mașini, electronica

Turismul: favorizat de fațada atlantică;

¹ Neguț Silviu, Rădulescu Carmen-Camelia, Popa Ionuț, *Manual de geografie pentru cls. a VII-a*, editura Art Klett, București, 2019, p.101

- obiective turistice: carnavalul de la Rio de Janeiro, Amazonia, statuia lui Iisus Mântuitorul în Rio de Janeiro, plaja Copacabana, orașul Sao Paulo;

Căile de comunicație: navigația fluvială dezvoltată, căi ferate mai puțin dezvoltate.

PASUL 3

Ați aflat multe informații nu? Haideți să verificăm ce ați reținut! Vă propun 3 tipuri de exerciții. Spor la lucru!

I. Analizați harta alăturată și răspundeți următoarelor cerințe:

a. Identificați principalele elemente de hidrografie marcate, pe hartă, cu literele A, B și C:

A.

B.

C.

b. Identificați principalele orașe marcate, pe hartă, cu numere de la 1 la 5:

1.

2.

3.

4.

5.



II. Completați enunțurile de mai jos cu răspunsurile corecte:

1. Brazilia ocupă 47% din suprafața Americii de Sud, fiind localizată în partea ...

2. Brazilia este cea mai mare țară din lume vorbitoare de limba ...

3. În nord-estul Podișului Brazilian vegetația de savană poartă denumirea de ...

4. O ramură industrială caracteristică Braziliei este cea ...

III. Analizați imaginile prezentate mai jos. Asociați fiecare obiectiv turistic al Braziliei cu descrierea corespunzătoare acestuia, după modelul: 1-c

1



2



Sursa: www.lifenews.ro

3



Sursa: www.profudegeogra.eu

4



Sursa: www.cunoastelumea.ro

5



Sursa: www.amazon.com

6



Sursa: www.invacante.ro

Sursa: www.azamara.com

- a.** Oraș cu peste 20 milioane locuitori, cea mai mare aglomerație urbană și considerat cel mai modern și complex centru industrial al Americii Latine.
- b.** Simbolul natural al Americii de Sud este căderea impresionantă de apă, denumită și „Apă Mare”, localizată pe fluvial Parana.
- c.** Festival de dans și obiceiuri care este organizat anual în Rio de Janeiro, fiind celebru în toată lumea.
- d.** Monument simbol al creștinătății, închinat lui Cristos Mântuitorul, acesta este amplasat pe Muntele Corcovado în Rio de Janeiro și are o înălțime de 38 metri.
- e.** Arie naturală protejată, reprezentată de pădurea ecuatorială (selvasul amazonian) care adăpostește peste 4000 de specii de arbori, numită și Parc Național Amazonia.
- f.** Plaja emblemă a Braziliei și a Americii de Sud, se desfășoară pe o întindere de 4,5 kilometri la malul Oceanului Atlantic și găzduiește frecvent numeroase evenimente.

PASUL 4

Și pentru o imagine de ansamblu asupra a ceea ce am discutat, vă propun o schiță a lecției, pe care vă rog să o notați pe caietele de geografie.

Poziție geografică:

- în partea central-estică a Americii de Sud;
- ocupă aproape jumătate din America de Sud;
- largă deschidere la Oceanul Atlantic.

Condiții naturale:

- unități de relief: Câmpia Amazonului, Podișul Guyanelor, Podișul Braziliei (Mato Grosso);
- tipuri climatice: ecuatorială, subecuatorială, tropicală semiaridă, temperată caldă;
- hidrografie: Amazon, São Francisco, Parana;
- zone biogeografice: pădure ecuatorială (selva), savană (campos, sertao-caatinga).

Populație și așezări:

- 209,5 mil. de locuitori (207 mil. loc.), inegal repartizată pe suprafața țării;
- limba oficială: portugheza;
- orașe: Brasilia (capitala), Rio de Janeiro, São Paulo, Belo Horizonte, Santos.

Economie:

- agricultură: arbore de cafea, arbore de cacao, arbore de cauciuc, bananieri, tutun, citrice, porumb, trestie-de-zahăr, bovine, cabaline, porcine;
- resurse: minereuri de fier, bauxită, mangan, cărbuni, petrol, diamante;
- industrie: siderurgică, textilă, alimentară, constructoare de mașini, energetică;
- turism: carnavalul de la Rio, Corcovado (Căpățâna de zahăr) cu statuia lui Iisus, Copacabana, Amazon (Amazonia).